


二下 社會科補考題庫 — 歷史題庫

- 許多大型活動都會設計獨特的圖案和口號，一方面宣示主張，一方面加強印象，政治活動也是如此。下列何者是五四運動時的代表性口號？ (A)推翻滿清，建立民國 (B)同胞要團結，團結真有力 (C)外爭主權，內除國賊 (D)革命無罪，造反有理。
- 「……中國數千年以來，習於君主專制體制，各地學校短缺，大多數之人民智識不甚高尚，人民更缺乏參與政治之能力，四年以前，由專制一變而為共和，此番變動太快，難望有良好結果……中國將來必因總統繼承問題『釀成禍亂』……如一時不立即撲滅禍亂，可能導致敗壞中國之獨立……中國如用君主制，較共和制為宜，此殆無可疑者也。」此篇文章發表後，最可能為下列何人引用，為其政治野心鋪路？ (A)段祺瑞 (B)袁世凱 (C)梁啟超 (D)孫中山。
- 以下是中國某座城市的介紹：「現在城內的『沂水路』全長三百多公尺。之前德國統治這座城市的時候，叫做『迪德里希斯街』；後來日本占領時，叫做『赤羽町』。雖然這是條很短的路，卻記錄了此城市的演變過程。」此一城市最可能是下列何者？ (A)瀋陽 (B)青島 (C)南京 (D)重慶。
- 西元 1916 年，黃展進入了北京大學就讀，請問他大學四年的生活中，最不可能遇到下列哪一件事？ (A)跟著同學到天安門抗議巴黎和會的決議對中國權益種種不友善 (B)末代皇帝溥儀突然又當起了皇帝，雖然短短不到兩週就下臺 (C)聽聞南方國民政府的軍隊向北方推進，已經拿下武漢等華中重要大城市 (D)校長提倡自由學風，使北大成為北京一流名校。
- 工藤新一替日本軍方工作多年，近日更編寫了「基本國策綱要」的新計畫書，如附圖所示。請問：在該計畫書中，他將會以下列何項方式替日本籌謀未來的行動？ (A)對美國實施石油禁運 (B)計畫在中國投擲原子彈 (C)扶植溥儀成立滿洲國 (D)掠奪東南亞石油與橡膠。
- 美軍第十五步兵團首次在庚子事變時被派遣至中國保護僑民。後來，當日本在今日北京附近發動侵華的軍事行動，與中國爆發戰



爭，美國政府不願捲入戰局，因此決定撤離第十五步兵團，結束多年的派駐。根據上文，美國決定撤離第十五步兵團，最可能與下列何者有關？ (A)九一八事變 (B)一二八事變 (C)盧溝橋事變 (D)珍珠港事變。

- 有位中國老農夫回憶：「當時煉鋼要超英趕美，因此人人將鍋、鏟全丟進煉鐵爐燒煉。因為上級交代蓋一條用來運鋼的道路，所以只好將鄭和墓塚的石頭拿去墊路基，但我們一直沒有煉出夠多的數量，讓卡車來載運。」上述情況最可能與下列何者有關？ (A)大躍進 (B)抗美援朝 (C)文化大革命 (D)六四天安門事件。
- 佳容在一本集郵冊上看到一張郵票，如附圖，郵票上有「SEATO、PILIPINAS、1964」等訊息。這張郵票的發行應與下列何者有關？ (A)東南亞國家協會成立 (B)東南亞公約組織成立十週年紀念 (C)亞太經濟合作會議召開年會 (D)慶祝港澳回歸中國。
- 西元 1989 年發生的「天安門事件」，是中國近代史上第二次在天安門前發生的學生運動。請問：西元 1989 年在天安門前集會的學生運動，他們追求的目標是下列何者？ (A)經濟自主 (B)全盤西化 (C)民主改革 (D)一國兩制。
- 《阿甘正傳》是一部西元 1994 年發行的美國電影，主角阿甘曾在一九六〇年代參加一場反共戰事，獲得總統親自頒發榮譽勳章，還因有桌球的專長而代表美國至中國進行友誼賽。請問：阿甘參與的應該是下列哪一場戰役？ (A)韓戰 (B)越戰 (C)八二三炮戰 (D)國共內戰。

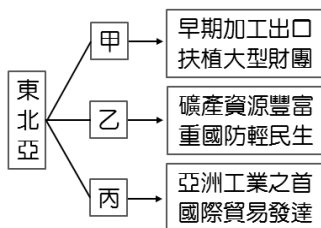


◎◎◎◎◎答案欄◎◎◎◎◎

1.	2.	3.	4.	5.	6.	7.	8.	9.	10.
C	B	B	C	D	C	A	B	C	B

二下 社會科補考題庫 — 地理題庫

1. 泡溫泉是日本的國民運動，除了一般民眾外，在日本的野溪溫泉中甚至也看得到猴子泡溫泉的情形。日本溫泉分布眾多與下列何者的關係最密切？ (A)居板塊接觸帶 (B)緯度低蒸發強 (C)地下水源充沛 (D)沿海暖流經過。
2. 韓國有句俗話：「泡菜是半個糧食」，餐桌上總少不了泡菜，尤其過冬之前是醃泡菜的季節。請問：這種習俗主要是配合韓國何項環境特色而形成？ (A)冬季嚴寒，缺乏新鮮蔬菜 (B)夏季酷熱，食物容易敗壞 (C)降水量少，無法種植蔬菜 (D)梅雨季長，食物保存不易。
3. 佳佳學習東北亞的經濟發展後，自己整理了如附圖的東北亞經濟發展心智圖，圖中的甲、乙、丙應依序分別為下列何者？ (A)北韓、南韓、日本 (B)日本、北韓、南韓 (C)日本、南韓、北韓 (D)南韓、北韓、日本。



4. 東南亞的氣候特徵如下：「全年氣溫甚高，年、日溫差均小，普遍炎熱，只有夜間及陣雨之後氣溫略轉涼爽。」造成上述氣候特徵的地理因素為下列何者？ (A)位居低緯度區 (B)島嶼散布海洋中 (C)地勢起伏不大 (D)夏季季風不穩定。
5. 東南亞地區的泰國及馬來西亞兩國經濟發展較為快速，附表中有關這兩個國家的敘述，何者正確？ (A)位置 (B)宗教 (C)氣候 (D)主要作物。

項目 國家	位置	宗教	氣候	主要作物
泰國	南洋群島	伊斯蘭教	熱帶雨林	稻米
馬來西亞	中南半島	佛教	熱帶季風	橡膠

6. 「次大陸」是指一塊大陸中相對獨立的組成部分，通常藉由山脈、沙漠、高原及海洋等難以通過的交通障礙和大陸的主體相隔離。在亞洲

有次大陸的存在，且是一片古老結晶岩陸塊。請問：亞洲的「次大陸」位於下列何地？ (A)東北亞 (B)東南亞 (C)南亞 (D)西亞。

7. 印度曾被英國殖民，民眾多使用英語溝通，加上擁有工資較為低廉的科技人才、政府政策的大力配合下，全力發展何項產業，得以與歐美國家密切合作？ (A)電影工業 (B)資訊科技 (C)石化工業 (D)核子武器。
8. 西亞和北非的埃及合稱為中東，當地戰事不斷，因此素有火藥庫的稱號。請問：該地區的紛爭原因中，下表敘述何者錯誤？ (A)戰略地位 (B)宗教不同 (C)石油礦藏 (D)民族不同。

民族不同	宗教不同	石油礦藏	戰略地位
猶太人與阿拉伯人紛爭	猶太教與天主教徒紛爭	主要分布於波斯灣沿岸	位歐、亞、非三洲接觸地帶

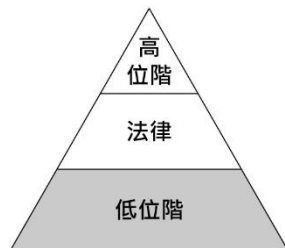
9. 隨著石油資源的逐漸短缺，價格居高不下。請問下列哪一個組織對於世界油價的影響力最大？ (A)EU (B)APEC (C)OPEC (D)NAFTA。
10. 西亞的乾燥氣候面積相當廣大，這和下列哪一項因素的關係最為密切？ (A)距海遙遠 (B)熱帶低氣壓籠罩 (C)副熱帶高氣壓籠罩 (D)鋒面滯留。

答案：

1.	2.	3.	4.	5.
A	A	D	A	D
6.	7.	8.	9.	10.
C	B	B	C	C

二下 社會科補考題庫 — 公民科

- 一名老闆強迫信仰伊斯蘭教的印尼勞工吃豬肉，不吃就扣薪 500 元，遭檢察官依強制罪起訴並求刑八個月。請問：該名老闆的行為違反《憲法》保障的何項權利？ (A)集會自由 (B)遷徙自由 (C)表現自由 (D)信仰宗教自由。
- 「訴願」與「行政訴訟」是兩種與人民權益相關的救濟程序，以下關於這兩者的敘述何者正確？ (A)「訴願」是人民伸張權益的途徑，「行政訴訟」是政府處分人民的方式 (B)人民欲提起「訴願」之前，必須經過「行政訴訟」的程序 (C)任何法院皆可受理人民提出的行政訴訟案 (D)訴願目的在於請求政府撤銷或變更原有的行政處分。
- 右圖為我國廣義的法律位階示意圖，圖中灰色區塊所代表的法律類型，具有下列何項特色？ (A)可由行政機關訂定 (B)必須經總統公布施行 (C)內容多為原則性的規範 (D)修改必須經公民投票複決。
- 下列對於兒少相關法律的敘述，何者正確？ (A)《兒童權利公約施行法》規定不可將 6 歲以下小孩單獨留在家中 (B)《兒童及少年福利與權益保障法》規定任何人不得讓兒童及少年出入不良場所 (C)《兒童及少年性剝削防制條例》規定兒少不得超過合理時間連續使用電子產品 (D)《勞動基準法》規定雇主不可雇用未滿 16 歲的人。
- 從刑事指附加於主刑所科處的刑罰，除有特別規定外，不得單獨科處。下列何者為刑罰的從刑？ (A)有期徒刑 (B)拘役 (C)罰金 (D)褫奪公權。
- 公民老師請同學以生活中的新聞為題材，利用課堂所學為新聞內容訂標題。根據附表的内容判斷，哪一位同學寫的標題正確？ (A)小美 (B)小幸 (C)阿楷 (D)阿涵。



- 19 歲的阿呆和 17 歲的阿傻結夥持刀搶劫，被警察逮捕。依我國《刑法》規定，阿呆和阿傻的刑事責任為何？ (A)兩人都必須負擔完全的刑事責任 (B)兩人都可以減輕其刑 (C)阿呆須負擔完全刑事責任，阿傻可以減輕其刑 (D)阿呆可以減輕其刑，阿傻不受《刑法》處罰。
- 以下為「少年保護事件」與「少年刑事案件」的比較表，其中哪個選項的內容完全正確？

項目	少年保護事件	少年刑事案件
(A) 適用年齡	12 歲以上 未滿 14 歲	14 歲以上 未滿 18 歲
(B) 適用案件	犯罪行為 輕微	犯罪行為 嚴重
(C) 審理機關	少年法庭	刑事法庭
(D) 處分方式	訓誡、安置輔導等保護處分	罰金、拘役、感化教育等刑罰

- 下列何者屬於我國《著作權法》規範內的合理使用資料方式？ (A)為了教學目的，影印書籍中的部分文章 (B)利用網路下載最新流行音樂，提供網友點閱 (C)在網路上下載現正熱映的電影院線片 (D)整本書籍影印下來，省錢又實惠。
- 張愛玲(1920~1995)是著名的華人小說家，若以我國現行關於智慧財產權的保障來看其作品，下列敘述何者正確？ (A)其各作品所受保障皆為 125 年其著作 (B)其過世後作品仍受《專利法》保障 (C)不須經過申請即可享有保障 (D)其過世之後作品就不受法律保障。

◎◎◎◎◎答案欄◎◎◎◎◎

1.	2.	3.	4.	5.
D	D	A	B	D
6.	7.	8.	9.	10.
D	C	B	A	C

姓名	新聞標題
小美	十三歲嫌犯，將移送地方法院審理
小幸	食品檢驗不合格，縣政府將處罰金
阿楷	目擊銀行搶案，現場民眾向警方起訴
阿涵	冷血殺人犯，法官做出死刑判決