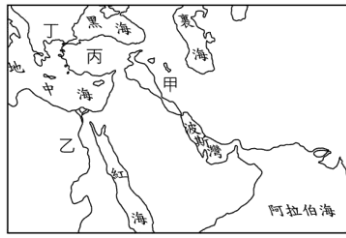
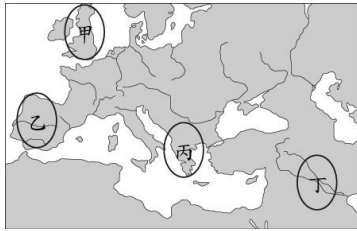


三上社會科補考題庫—歷史題庫

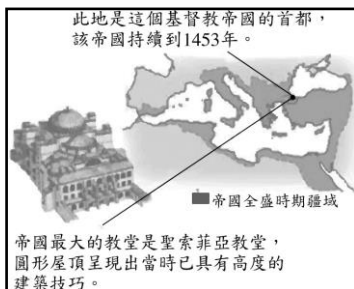
1. 古代的蘇美人、巴比倫人、亞述人及加爾底亞人等曾在「肥沃月彎」地區創造輝煌的文明，影響後世很大。請問：附圖中哪一個地區為其文明發源地？ (A)甲 (B)乙 (C)丙 (D)丁。



2. 古代「這個地區」形成許多城邦，城邦各自為政，彼此之間戰爭不斷。戰爭需要士兵，士兵需要強壯身體，而體育是培養強壯士兵的重要關鍵。之後，準備兵源的軍事訓練和體育競技，與宗教慶典結合，逐漸變為世界性象徵和平與友誼的運動會。請問：上文中的「這個地區」位於圖中的何處？ (A)甲 (B)乙 (C)丙 (D)丁。



3. 附圖是某本書的內頁，由其內容推斷，該頁最可能是介紹下列哪一帝國？ (A)拜占庭帝國 (B)阿拉伯帝國 (C)神聖羅馬帝國 (D)鄂圖曼土耳其帝國。



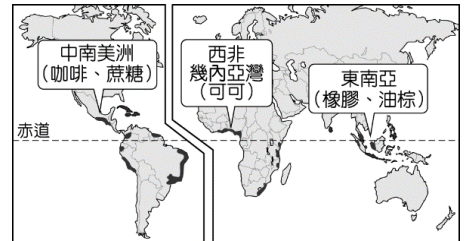
4. 自帝國建立以來，基督徒便受到不斷被迫害的命運，然而，基督徒的殉教精神，卻感召了更多人接受基督教信仰。西元313年，是歷史上的重要時刻，帝國的皇帝發布了〈米蘭詔令〉，宣布寬恕帝國內所有宗教，給基督徒及其他所有人奉行自己宗教的權利，任何人不得被剝奪其尊奉基督教、或任何其他宗教的機會，有關基督徒的一切禁令皆取消，凡欲崇奉基督教者，可公開舉行儀式，其他宗教也都享有相同的自由。請問：由上述內容判斷，頒布〈米蘭詔令〉的皇帝有可能是下列何人？ (A)凱撒 (B)屋大維 (C)君士坦丁 (D)狄奧多西。

5. 「他們是來自印度河流域一帶的外來民族，自進入印度地區後，為了穩固統治，引進新的制度與宗教觀念，藉此穩定政治及社會秩序。」請問：當時引進的新宗教觀念為

何？ (A)平等博愛 (B)神愛世人 (C)眾生平等 (D)因果報應與輪迴。

6. 對於一位十四、十五世紀的文藝復興時期學者而言，下列何者最有可能是他所關心的重點？ (A)表達虔誠信仰的藝術 (B)具有神學的專業知識 (C)如何獲得上帝的救贖 (D)肯定人的尊嚴與價值。
7. 《禁書目錄》是羅馬教廷出版，收錄對於天主教信仰「具危險性」的著作，不少名人在此目錄中榜上有名，如笛卡兒、培根、哥白尼、伽利略、洛克、伏爾泰等人，請問：以上的思想家為什麼會被羅馬教廷列在《禁書目錄》內？ (A)理性思維一定程度削弱天主教對民眾的影響力 (B)他們的思想太過於落後，使民智倒退 (C)他們助長了西歐民族主義，教廷不願意西歐因此陷入戰火 (D)他們的言論傾向希臘正教，不受羅馬教廷支持。

8. 右列是一張產物種植分布圖，其種植的物產與分布應該與下列何事有關？ (A)季風與洋流傳播物種 (B)歐洲人的冒險與殖民 (C)伊斯蘭教帝國的擴張 (D)基督宗教的海外傳播。



9. 著有《悲慘世界》、《鐘樓怪人》的法國大文豪雨果曾經對伏爾泰有以下的評論：「伏爾泰的名字所代表的不是一個人，而是整整一個時代。」請問：一生追求言論自由、反對教會腐敗的伏爾泰，最能代表哪一個時代？ (A)浪漫主義 (B)啟蒙運動 (C)文藝復興 (D)宗教改革。
10. 「這個國家有著多處世界文化遺產，包括阿茲提克帝國神廟遺跡、西班牙殖民時期重要銀礦區，和多座壯麗的天主教堂及修道院。」此一國家最可能是下列何者？ (A)巴西 (B)古巴 (C)秘魯 (D)墨西哥。

◎◎◎◎◎答案欄◎◎◎◎◎

1.	2.	3.	4.	5.	6.	7.	8.	9.	10.
A	C	A	C	D	D	A	B	B	D